
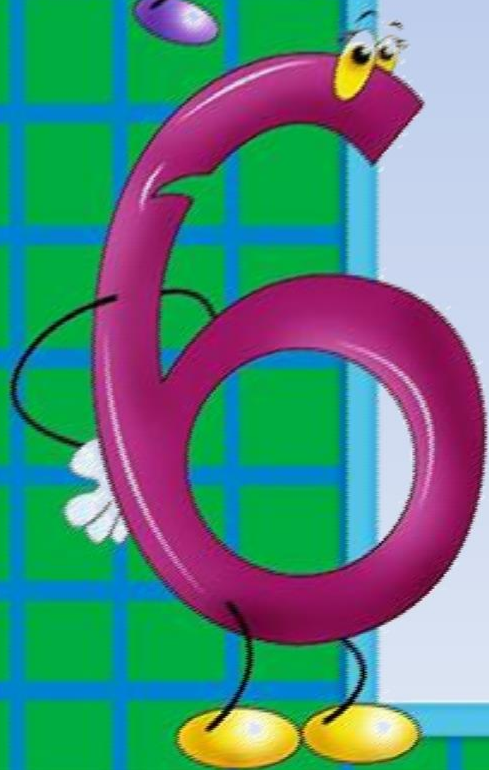


# Число і цифра 5



# На що схожа цифра 5?

Знаний акробат удав,  
Що хотів — те й удавав.  
Був він вправним циркачем:  
Міг згорнутися кільцем,  
Міг удати і стілець,  
Шафу, крісло, гребінець.  
Якось навіть той удав  
З себе цифру п'ять удав.



# Чого буває 5?



Чий то хвостик стирчить?  
Цифра п'ять до нас спішить!  
Цифра п'ять, або п'ятірка,  
З нею здавна дружить зірка:  
П'ять у зірочки кінців;  
Є п'ять пальців на руці,  
На нозі також, ось так!  
П'ять копійок – це п'ятак.



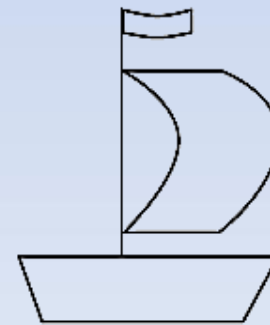
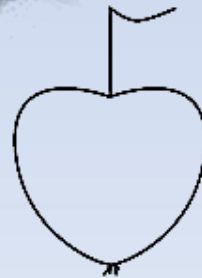



Будем нині ми писати  
Дуже гарну цифру – п`ять!  
Цифра кругла, ще й з хвостом.  
Наче яблуко з листком.

5

- Скільки яблук на дереві?

- Знайди цифру 5  
у малюнках.



# Склад числа 5



# Скільки метеликів у лузі?





# Назви цифри

1 2 3 4 5



Після якої цифри стоїть цифра 5?



# Чого на малюнку 3? 4? 5?



У якому вагоні їде цифра 5?



# Чого на малюнку не 5?



# Яке число наступне?

1

2

3

4



Ось і вийшла погулять  
На папері цифра 5.  
Руку вправо простягнула,  
Ніжку бубликом зігнула.

# Скільки пальців на руці?

Я рахую до п'яти.

Полічи зі мною й ти.


Пальців на руках по п'ять.

Легко їх порахувать.





# Порахуй від 5 до 1




Чому розтанув сніговик?

# Скільки тваринок?





Скільки потрібно додати до 5





# Скільки потрібно додати до 5





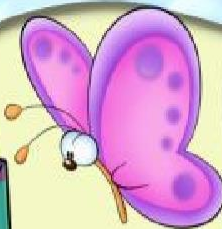
Скільки  
ведмедиків?

5


Скільки  
метеликів?

4

Чого більше?







Скільки всього машин? Яка з них їде направо, яка наліво? Яка машина їде до тебе, а які від тебе?




Є в зайчихи 5 малят,  
П'ять сіреньких зайченят.  
Ось вони рядочком сплять  
1,2,3,4,5

Є в зайчихи п'ять малят  
Неслухняних зайченят,  
На обід їх мама жде  
1,2,3, а решта де?



У лісочку їжачок  
Збирав фрукти в рюкзачок.  
П'ять кислиць і стільки ж груш.  
Завантаживсь - кроком руш!  
Треба б знати їжачку,  
Скільки груш у рюкзаку?



По дорозі зайчик біг.  
Ніс 5 яблук на обід.  
Одне впало, покотилось.  
Скільки яблук залишилось?



$$5 - 1 = 4$$



# Порахуй грибочки!

Ой, грибочки у гайочку  
В капелюшечках стоят  
Два грибочки, три грибочки,  
Разом буде ...



$$2 + 3 = 5$$

# Склади задачу за малюнком



$$1 + 4 = 5$$

# Склади задачу за малюнком



$$5 - 3 = 2$$



# Склади задачу за малюнком



$$4 + 1 = 5$$

# Склади задачу



$$4 + 1 = 5$$

# Порівняй!



3

<

5



# Задача

П'ять фломастерів у Жені,  
Взяв він жовтий і зелений.  
А вкоробці на столі  
Залишилось тільки...



$$5 - 2 = 3$$





# Задача

Три сови і два сичі.  
Скільки всіх їх – полічи?



$$3 + 2 = 5$$

Скільки всього фігур?  
Яка з них зайва? Чому?





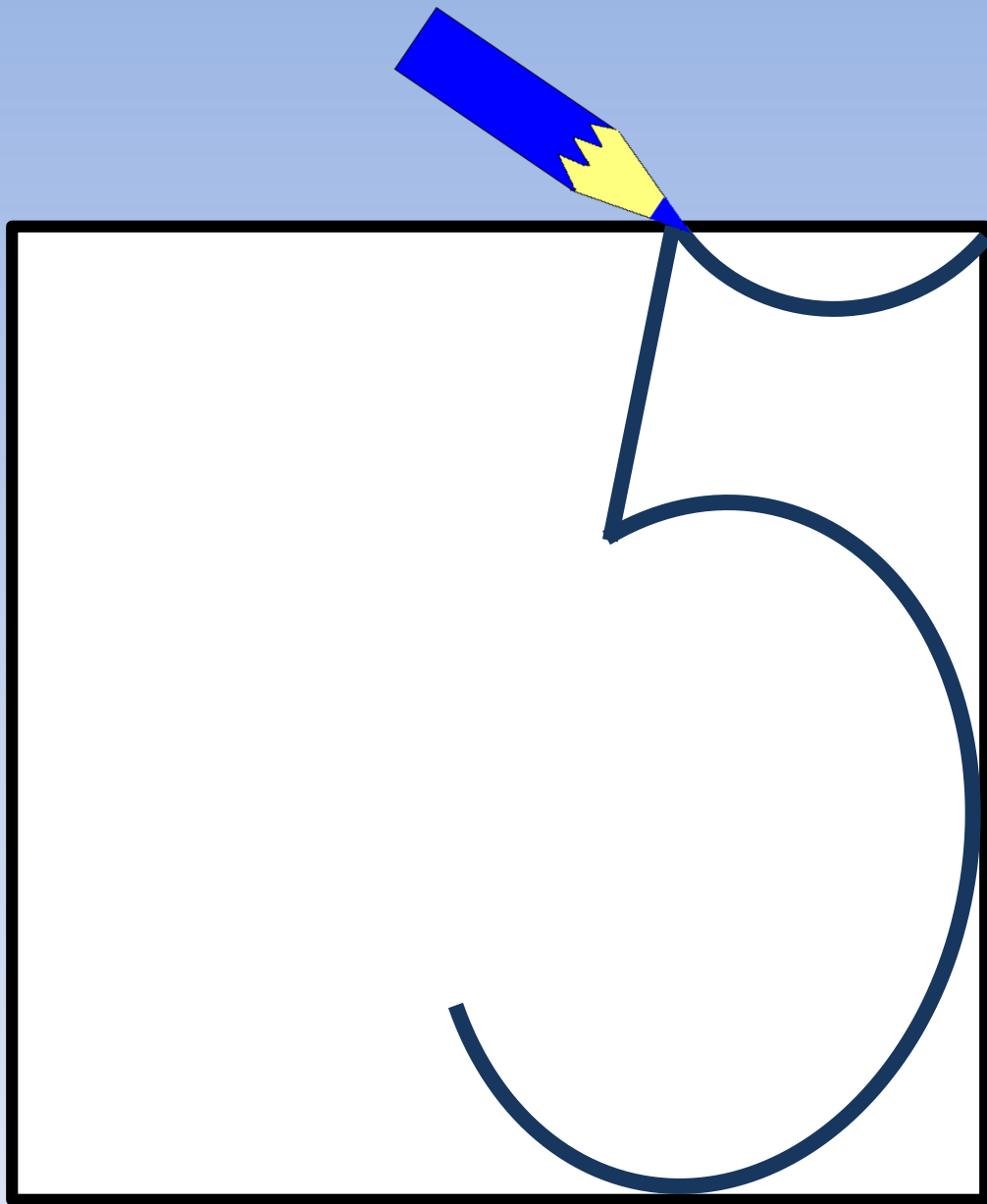
# Знайди 5 відмінностей



# Казка про П'ятірку

Знає з ким дружить П'ятірка ? Вона – подружка п'яти пальців людини. Їх 5 на правій руці, 5 на лівій руці, 5 на правій нозі, 5 на лівій нозі. На зиму малеча П'ятірка плете м'які рукавички. Перша хатинка для великого пальця, друга – для вказівного, третя – для середнього, а п'ята – для мізинчика. Тепло і затишно пальчикам взимку у рукавичках!





Ручку всі до рук взяли і роботу почали.  
Зараз будемо писати  
Дуже гарну цифру - п'ять!  
Починається п'ятірка  
З того ж місця, що четвірка.  
Рівненько до серединки спускається  
І спинкою, як трійка на клітинку  
спирається.  
Так само ніжку закругляємо,  
Хвостик зверху додаємо  
– У верхній правий кут ідемо.  
І ось гарненьку п'ятірку маємо.





# Список використаних джерел:

## Література:

- Ковбанюк Т. Математична казка // Початкова школа . – 2011. – № 11. – С.34.
- Комар О. Методичні розробки уроків математики за інтерактивними технологіями // Початкова школа . – 2009. – № 9. – С. 16.

## Інтернет-ресурси:

<http://sad129.ucoz.ua/forum/10-10-1>

<http://doshkolenok.kiev.ua/skazki-legendy/638-virshi-pro-cyfry.html>

<http://abetka.ukrlife.org/lichilki.html>

<http://m.talant.fo.ru/>

<http://dnz605.edukit.kiev.ua/biblioteka/>

<http://chigrina-gala.narod.ru/index/0-18>